




Wie spät ist es?

Schneide die Kästchen aus und klebe sie unter die richtigen Uhren.



zwölf

24.00 12.00

viertel vor neun

8.45 20.45

viertel nach  
zwölf

0.15 12.15

viertel nach  
zwei

2.15 14.15

halb sieben

6.30 18.30

halb neun

8.30 20.30